



INVESTICE DO ROZVOJE VZDĚLÁVÁNÍ

Základní škola Habartov, Karla Čapka 119, okres Sokolov

Autor:	Jana Hankerová
Téma sady:	Matematika pro 1.ročník
Název výstupu:	VY_32_INOVACE_M1_09_Odčítání v oboru do 8
Datum vytvoření:	13.2.2013
Číslo projektu:	CZ.1.07./1.4.00/21.3536

Anotace

Cílová skupina:

Žáci 1. ročníku

Forma:

Frontální výuka, skupinová práce

Pomůcky:

Promítací plátno


Metodický pokyn:

- **Odčítání kuliček** – děti vytvoří příklad na odčítání, po kliknutí pravého tlačítka myši se objeví správný příklad.
- **Spočítej a doplň** – děti počítají příklady a k výsledku si podle tabulky vlevo najdou písmenko, které doplní (objeví se ihned po spočítání příkladu kliknutím). Když spočítají všechny příklady, vyjde jím v posledním řádku tajenka.
- **Odkryj obrázek** – příklady počítají po řádcích, postupně se odkrývá utajený obrázek.
- **Slovní úloha** – děti vytvoří na slovní úlohu příklad, který se po kliknutí myši objeví vlevo dole.


8

Odčítání v oboru do 8

Matematika I



Odčítání kuliček



$$8 - 4 = 4$$



Spočítej a doplň:

0	=	E
1	=	Á
2	=	O
3	=	Y
4	=	Í
5	=	N
6	=	T
7	=	Č
8	=	D



$8 - 6 =$

2

O

$8 - 0 =$

8

D

$8 - 1 =$

7

Č

$8 - 4 =$

4

Í

$8 - 2 =$

6

T

$8 - 7 =$

1

Á

$8 - 3 =$

5

N

$8 - 4 =$

4

Í

Odkryj obrázky

$8 - 6 =$

$8 - 4 =$

$8 - 3 =$

$8 - 1 =$

$8 - 8 =$

$8 - 7 =$


$8 - 5 =$

$8 - 0 =$

$8 - 2 =$

Slovní úloha

Na stromě
sedělo 8 vos. 4
vosy poté slétly
na stůl a
pochutnávaly
si na koláči.
Kolik vos
zůstalo na
stromě ?



Příklad

Citace:

- www.office.microsoft.com - kliparty
- vlastní zdroje