



INVESTICE DO ROZVOJE VZDĚLÁVÁNÍ

## ZÁKLADNÍ ŠKOLA HABARTOV, KARLA ČAPKA 119, OKRES SOKOLOV

<b>Autor:</b>	<b>Jana Hankerová</b>
<b>Téma sady:</b>	Matematika pro 1.ročník
<b>Název výstupu:</b>	VY_32_INOVACE_M1_07_Číslovka 8
<b>Datum vytvoření:</b>	6.2.2013
<b>Číslo projektu:</b>	CZ.1.07./1.4.00/21.3536

# Anotace

<b>Cílová skupina:</b>	Žáci 1. ročníku
<b>Forma:</b>	Frontální výuka, skupinová práce
<b>Pomůcky:</b>	Promítací plátno
<b>Metodický pokyn:</b>	<ul style="list-style-type: none"><li>•<b>Seznamte se:</b> Ukázka několika pyramid v matematice.</li><li>•<b>Jednoduchá pyramida:</b> Ukázka, jak se pyramida počítá. Učitel postup odkrývá tlačítkem myši.</li><li>•<b>Složitější pyramida:</b> Děti mohou postupně počítat patra pyramidy a učitel ji odkrývá myší.</li><li>•<b>Pro šikuly:</b> Těžší pyramida se stejným postupem jako předešlé.</li></ul>

8

Číslovka 8

MATEMATIKA 1



# Osmička



Najdi osmičku na číselné ose




1


6

7

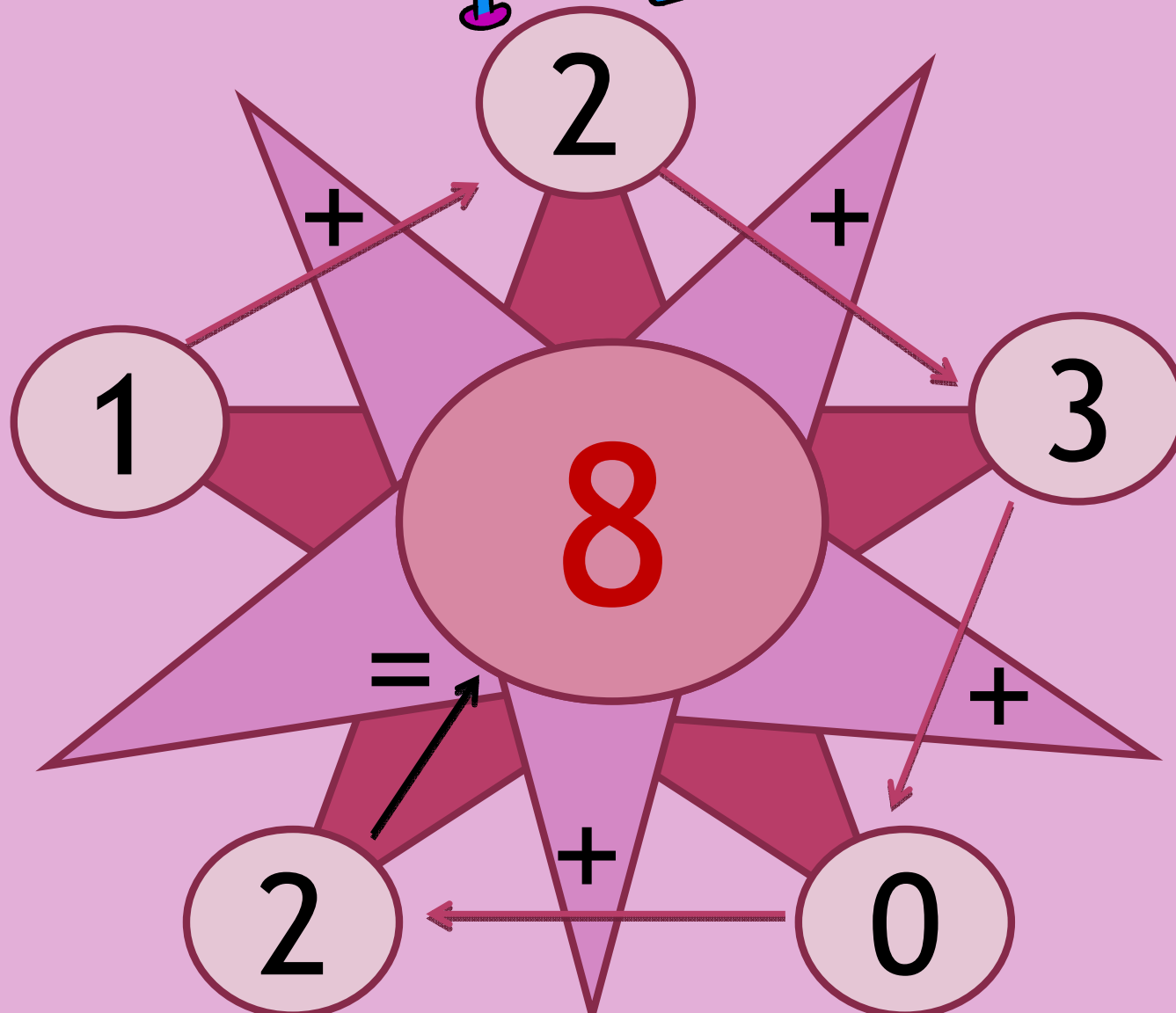
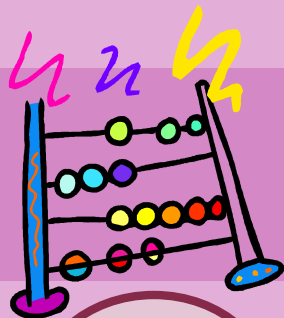
8



# Hledej 8 stejných obrázků



# Počítej







# Citace:

- [www.office.microsoft.com](http://www.office.microsoft.com) - kliparty
- vlastní zdroje